



Kompetenzen ermitteln

Lösungen zum Beispielheft

KERMIT 2




Deutsch

Leseverstehen



Lösungen: Deutsch Leseverstehen

Schwimmbad



Die Geschichte von den Hühnern und dem Regenwurm

2.1: C) seine schwarzen Schwanzfedern

2.2 Welche Aussage stimmt?

		stimmt	stimmt nicht
1	Der Regenwurm macht: „I-i-i-ii!“	<input type="checkbox"/>	<input checked="" type="checkbox"/>
2	Der Hahn kann gut krähen und die Hühner nur gackern.	<input checked="" type="checkbox"/>	<input type="checkbox"/>
3	Hühner können gut krähen und Hähne gut gackern.	<input type="checkbox"/>	<input checked="" type="checkbox"/>
4	Hühner und Hähne können krähen.	<input type="checkbox"/>	<input checked="" type="checkbox"/>

2.3: C) Der Regenwurm wird nicht gefressen.


2.4 Bringe die Sätze in die richtige Reihenfolge.

- 2 Beide Hühner wollten den Regenwurm fressen.
- 4 Der Hahn hat laut „Ü-ü-üü!“ gerufen.
- 3 Der Hahn wollte den Regenwurm fressen.
- 1 Zwei Hühner haben einen Regenwurm gefunden.
- 6 Aber der Regenwurm war schon längst wieder in sein Erdloch gekrochen.
- 5 Sofort haben die Hühner den Regenwurm losgelassen.

2.5: B) Der Hahn freut sich darüber, dass die beiden Hühner sich mit dem Hund streiten.

2.6: Sinngemäß: Damit die Hühner den Regenwurm loslassen und er ihn haben kann.

Mathematik



Lösungen: Mathematik

Briefmarke

Die Briefmarke ist ungefähr ...

☐ 4 mm breit.

☒ 4 cm breit.

☐ 4 m breit.

☐ 4 km breit.

Geldbetrag



Grafik: © IQB

Es sind 10,05 €

a) 495 Cent = 4,95 Euro

b) 149 Cent = 1,49 Euro

Addieren und Subtrahieren

Trage die richtige Zahl in das Kästchen ein.

$$\boxed{45} - 7 = 38$$

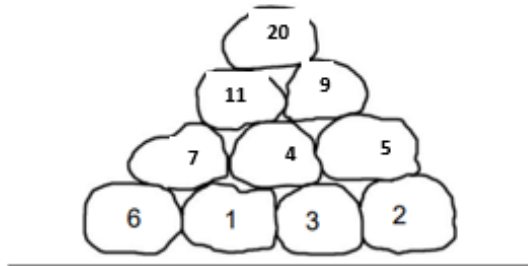
$$38 + 6 = \boxed{44}$$

Waage

Wie viele Würfel muss er wegnehmen, damit die Waage wieder im Gleichgewicht ist?

Er muss 3 Würfel wegnehmen.

Zahlenberg



Geburtstage

- a) Im April haben **2** Kinder Geburtstag.
- b) Die meisten Kinder haben im **März** Geburtstag.
- c) Susi hat im selben Monat wie drei weitere Kinder Geburtstag.
Susi hat im **Dezember** Geburtstag.